

Prénom :

Date :

1. Indique les deux états de l'eau que tu connais.

Eau


Eau

2. Donne deux exemples de l'eau à l'état solide et deux exemples de l'eau à l'état liquide.

Eau solide :

Eau liquide :


3. Colorie en vert l'eau à l'état solide et en bleu l'eau à l'état liquide.




la pluie




le brouillard




l'eau du robinet




la neige



un igloo



une rivière



un nuage



des glaçons

Evaluation : Les états de l'eau

4. Colorie de la même couleur les étiquettes qui vont ensemble.

état solide

état liquide

en-dessous de 0°C

au-dessus de 0°C

5. Complète le schéma vu en classe avec les mots suivants : solidification, fusion, solide, liquide, la chaleur, le froid.

